


# 小数点の動かし方


## ポイント

「 $\times 10$ 」  
小数点が 1 こ右にずれる 


0.2

「 $\div 10$ 」  
小数点が 1 こ左にずれる 


0.4

「 $\times 100$ 」  
小数点が 2 こ右にずれる 

0.02

「 $\div 100$ 」  
小数点が 2 こ左にずれる 

14.7

$4 \times 10$    $4.0 \times 10$  と考える

☆ 次の計算をしましょう。

①  $1 \times 10$

②  $20 \times 10$

③  $0.1 \times 10$

④  $0.2 \times 10$

⑤  $5 \times 100$

⑥  $13 \times 100$

⑦  $0.02 \times 10$

⑧  $0.9 \times 100$

⑨  $1.48 \times 100$

⑩  $53.1 \times 10$

⑪  $1 \div 10$

⑫  $10 \div 100$

⑬  $5 \div 100$

⑭  $0.5 \div 10$

⑮  $100 \div 10$

⑯  $0.37 \div 10$

⑰  $25 \div 10$

⑱  $0.9 \div 100$