

割合 ③

☆ 次の問題を解きましょう。

① 50% は全体の $\frac{\square}{2}$

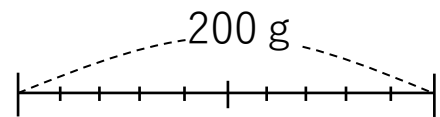
② 25% は全体の $\frac{1}{\square}$

③ 10% は全体の $\frac{1}{\square}$

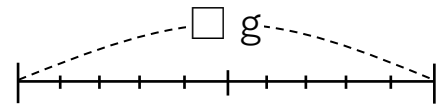
④ 1% は全体の $\frac{\square}{\square}$

☆ 次の文章を数直線で表し 答えも 求めましょう。

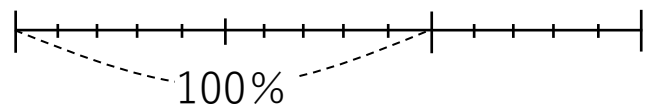
① 200 g の 80% は \square g です



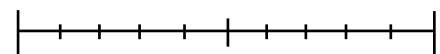
② \square g の 20% は 30 g です



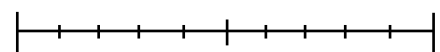
③ \square 本の 120% は 78本 です



④ 45人が 50% にあたるバスの定員は \square 人



⑤ 90人が 25% にあたる船の定員は \square 人



⑥ 18m² が 90% にあたる畑の面積は \square m²

