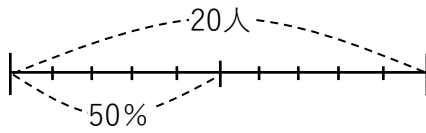


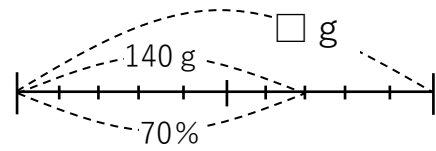
割合「数直線の練習」

例題

20人の50%

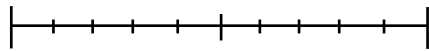


□ g の70%は140 g

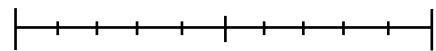


☆ 次の文章を数直線で表しましょう。

① 40人の50%

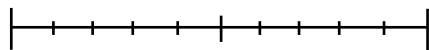


② 100本の20%



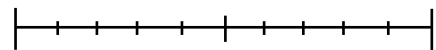
③ 20人の120%

※ 線を書き加えてみよう！

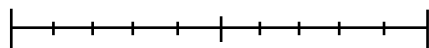


④ 50 g の110%

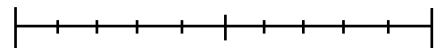
※ 線を書き加えてみよう！



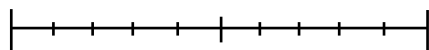
⑤ 200 g の90%



⑥ □ g の40%は20 g



⑦ □本の25%は50本



⑧ □m の38%は19m

