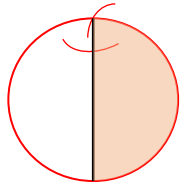
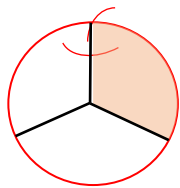


# 分数の感覚 ①

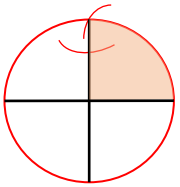
☆ 次の問題を解きましょう。



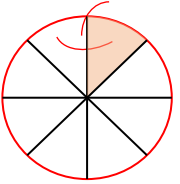
りんご 1 個を 2 つに分けたうちの 1 つ分を  
小数で表すと

りんご 1 個を 3 つに分けたうちの 1 つ分を  
小数で表すと

りんご 1 個を 4 つに分けたうちの 1 つ分を  
小数で表すと

りんご 1 個を 8 つに分けたうちの 1 つ分を  
小数で表すと


☆ 色のついた部分のりんごを「帯分数」で表しましょう。

解き方

