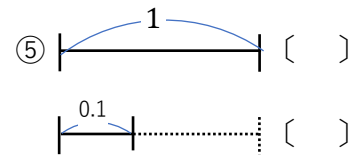
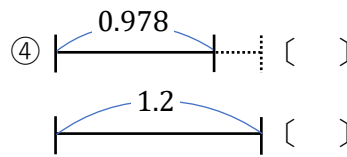
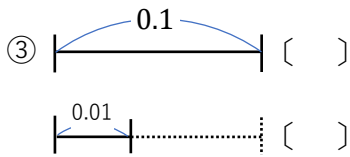
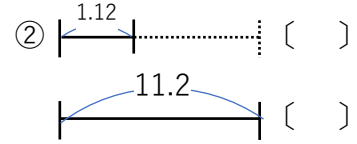
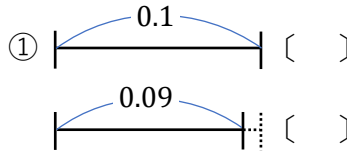
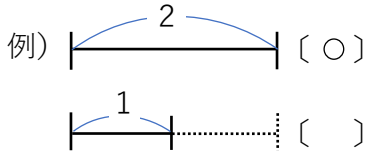


# 小数の感覚 ①

☆ 大きい方に○を書きましょう。



☆ 答えに合う数を書きましょう。

⑥ 1 は 0.1 を \_\_\_\_\_ 個 合わせた数

⑬ 1.2 は 1 と \_\_\_\_\_ を 合わせた数

⑦ 0.6 は 0.1 を \_\_\_\_\_ 個 合わせた数

⑭ 2.4 は 0.4 と \_\_\_\_\_ を 合わせた数

⑧ 1.2 は 0.1 を \_\_\_\_\_ 個 合わせた数

⑮ 0.9 は 0.5 と \_\_\_\_\_ を 合わせた数

⑨ 1 は 0.5 を \_\_\_\_\_ 個 合わせた数

⑯ 1.5 は 1 と \_\_\_\_\_ を 合わせた数

⑩ 2 は 0.1 を \_\_\_\_\_ 個 合わせた数

⑰ 1.8 は 0.9 と \_\_\_\_\_ を 合わせた数

⑪ 6.23 は 6 と \_\_\_\_\_ と 0.03 を 合わせた数

⑫ 15.78 は 15 と \_\_\_\_\_ と 0.08 を 合わせた数

☆ 半分の数を答えましょう。

⑱ 2 の半分は \_\_\_\_\_

㉑ 0.08 の半分は \_\_\_\_\_

例) 10 の半分は 5

⑲ 1 の半分は \_\_\_\_\_

㉒ 0.1 の半分は \_\_\_\_\_

⑳ 0.8 の半分は \_\_\_\_\_

㉓ 1.2 の半分は \_\_\_\_\_