




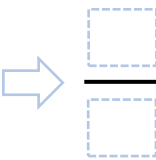
分数の基本

☆ 次の分数を数直線で表しましょう。

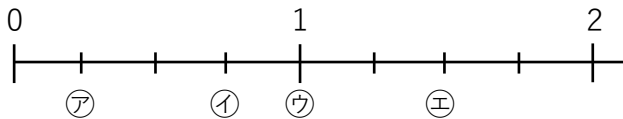


③ $\frac{1}{3}$ と $\frac{1}{5}$ 、大きいのはどちらですか？ ()

☆ $\frac{3}{3}$ 、 $\frac{5}{5}$ 、 $\frac{9}{9}$ などは  とあらわすことができる。

☆ 10こに分けたうちの3つ分 

☆ 右の分数は㉗～㉙のどれになりますか？



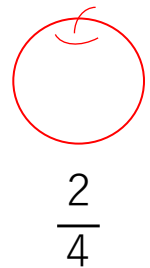
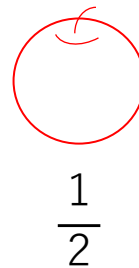
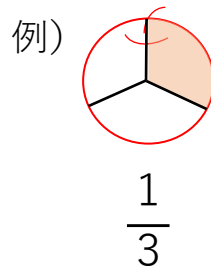
$\frac{3}{4}$ ()

$\frac{4}{4}$ ()

$\frac{6}{4}$ ()

$\frac{1}{4}$ ()

☆ 右のリンゴを分けましょう。



☆ 次の問題を解きましょう。

① $\frac{1}{5} + \frac{2}{5}$

② $\frac{4}{7} + \frac{3}{7}$

③ $1 - \frac{1}{4}$

④ $1 + \frac{3}{5}$