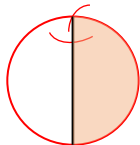


分数の感覚 ②

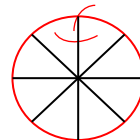
☆ 次の問題を解きましょう。

解き方

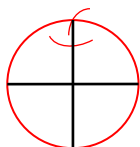
$\frac{1}{2}$ だけ色をぬりましょう



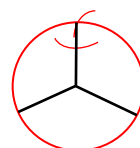
$\frac{6}{8}$ だけ色をぬりましょう



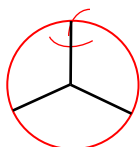
$\frac{1}{4}$ だけ色をぬりましょう



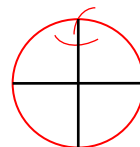
$\frac{3}{3}$ だけ色をぬりましょう



$\frac{2}{3}$ だけ色をぬりましょう



$\frac{3}{4}$ だけ色をぬりましょう



☆ 次の分数を数直線で表しましょう。

解き方

