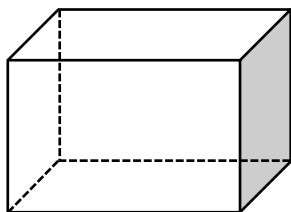


## 平行と垂直 ②

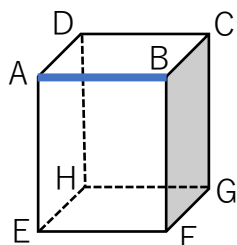
☆ 次の直方体について答えましょう。



① 「面」はいくつありますか？ ( )

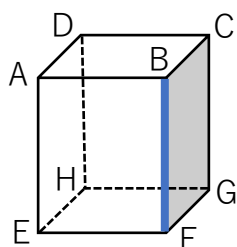
② 「辺」はいくつありますか？ ( )

③ 「頂点」はいくつありますか？ ( )



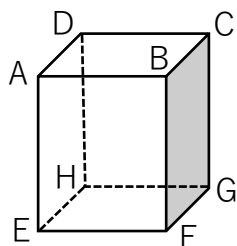
④ 辺 AB と平行な辺を全て答えましょう。  
( )

⑤ 辺 AB と垂直な辺を全て答えましょう。  
( )



⑥ 辺 BF と平行な辺を全て答えましょう。  
( )

⑦ 辺 BF と垂直な辺を全て答えましょう。  
( )



⑧ 面 BCGF と平行な面を答えましょう。  
( )

⑨ 面 BCGF と垂直な面を全て答えましょう。  
( )