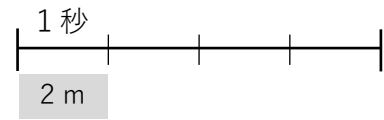


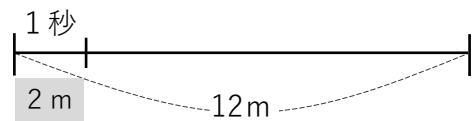
速さ ①

☆ 次の問題を解きましょう。

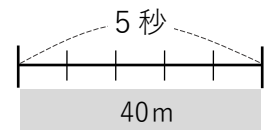
① 秒速 2 m で走る人は 4 秒で「何m」進めるでしょう？



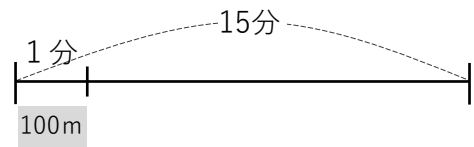
② 秒速 2 m で走る人が 12m 進むには「何秒」必要でしょう？



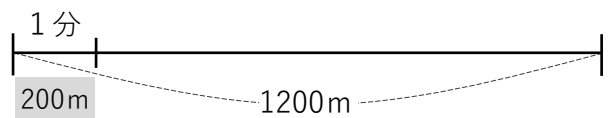
③ 40m を 5 秒で進めるバイクの速さは「秒速何m」ですか？



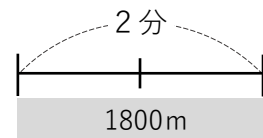
④ 分速 100m で走る人は 15分 で「何m」進めるでしょう？



⑤ 分速 200m で走る人が 1200m 進むには「何分」必要でしょう？



⑥ 2分 で 1800m 進む車の速さは「分速何m」ですか？



⑦ 3時間 で 150km 進む車の速さは「時速何km」ですか？

