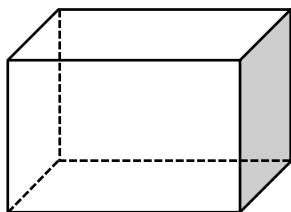
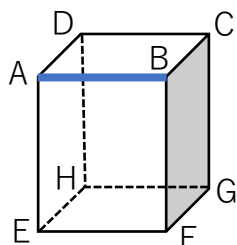


## 平行と垂直 ② 答え

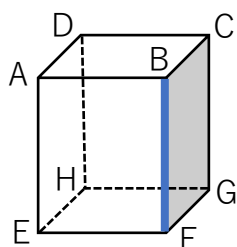
☆ 次の直方体について答えましょう。



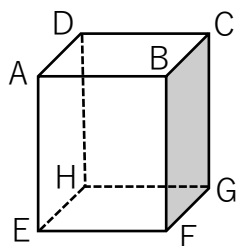
- ① 「面」はいくつありますか？ ( 6 )  
② 「辺」はいくつありますか？ ( 12 )  
③ 「頂点」はいくつありますか？ ( 8 )



- ④ 辺 AB と平行な辺を全て答えましょう。  
( 辺EF、辺HG、辺DC )  
⑤ 辺 AB と垂直な辺を全て答えましょう。  
( 辺AE、辺BF、辺AD、辺BC )



- ⑥ 辺 BF と平行な辺を全て答えましょう。  
( 辺AE、辺DH、辺CG )  
⑦ 辺 BF と垂直な辺を全て答えましょう。  
( 辺AB、辺EF、辺BC、辺FG )



- ⑧ 面 BCGF と平行な面を答えましょう。  
( 面 AEHD )  
⑨ 面 BCGF と垂直な面を全て答えましょう。  
( 面ABCD、面DCGH、面ABFE、面EFGH )