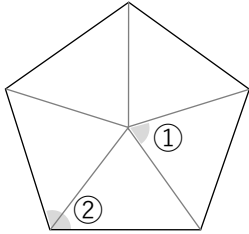


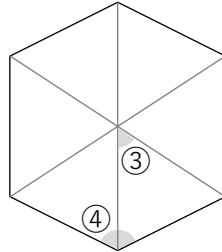
# 正多角形

① 次の正多角形の角度を求めましょう。



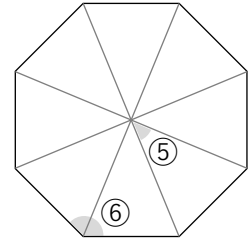
① (            )

② (            )



③ (            )

④ (            )



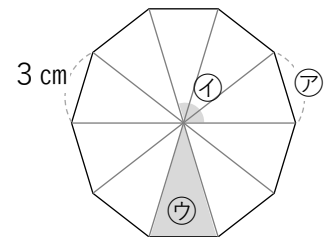
⑤ (            )

⑥ (            )

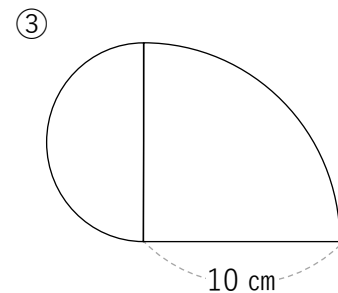
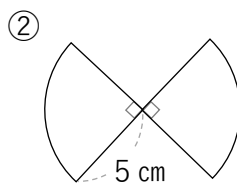
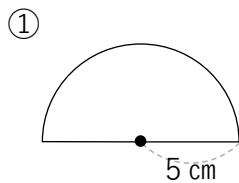
② 右の図形は、1辺の長さが3 cmの正十角形です。

① アの長さといの角の大きさを求めましょう。

② ウは何という名前の三角形ですか？



③ 次の形の「まわりの長さ」は何cmですか。



※ 半円（円を半分にしたもの）と円を4等分にしたものを組み合わせた図形