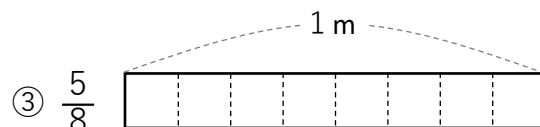
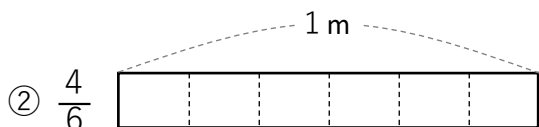
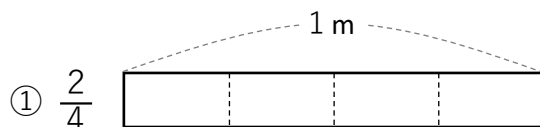
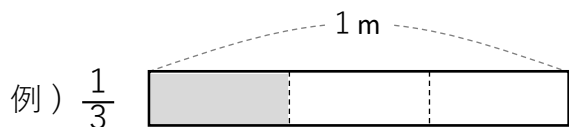


分数 ②

① 次の長さの分だけ色をぬりましょう。



② $\frac{1}{3}$ と $\frac{1}{6}$ 、大きいのはどちらですか? ()

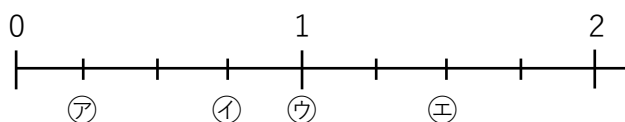
③ 次の数を分数で表しましょう。

① 2つに分けたうちの1つ分 ()

② 8つに分けたうちの3つ分 ()

④ $\frac{3}{3}$ 、 $\frac{5}{5}$ 、 $\frac{9}{9}$ などは とあらわすことができる。

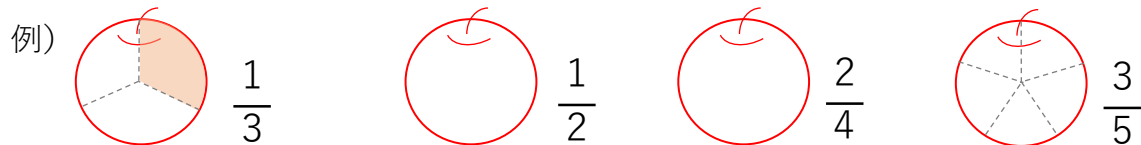
⑤ 右の分数は㉗～㉙のどれになりますか?



$\frac{3}{4}$ () $\frac{4}{4}$ ()

$\frac{6}{4}$ () $\frac{1}{4}$ ()

⑥ 右のリンゴを分けましょう。



⑦ 次の問題を解きましょう。

① $\frac{1}{5} + \frac{3}{5}$

② $\frac{4}{7} + \frac{3}{7}$

③ $1 - \frac{1}{4}$

④ $1 + \frac{3}{5}$