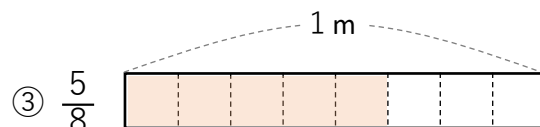
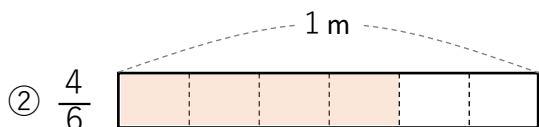
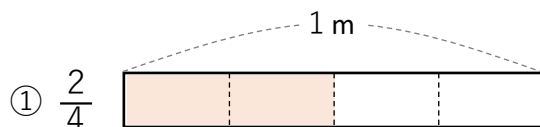
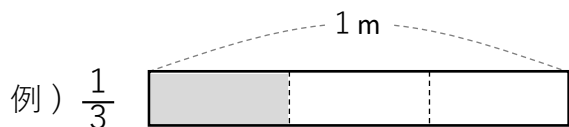


## 分数② 答え

① 次の長さの分だけ色をぬりましょう。



②  $\frac{1}{3}$  と  $\frac{1}{6}$ 、大きいのはどちらですか？ (  $\frac{1}{3}$  )

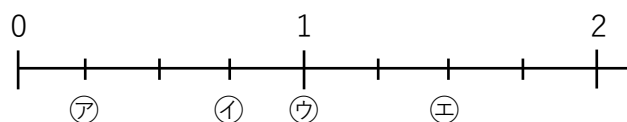
③ 次の数を分数で表しましょう。

① 2つに分けたうちの1つ分 (  $\frac{1}{2}$  )

② 8つに分けたうちの3つ分 (  $\frac{3}{8}$  )

④  $\frac{3}{3}$ 、 $\frac{5}{5}$ 、 $\frac{9}{9}$ などは 1 とあらわすことができる。

⑤ 右の分数は㉗～㉝のどれになりますか？



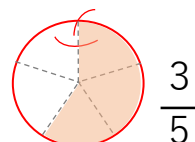
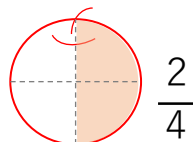
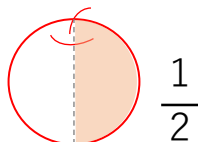
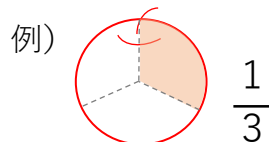
$\frac{3}{4}$  ( ㉙ )

$\frac{4}{4}$  ( ㉝ )

$\frac{6}{4}$  ( ㉝ )

$\frac{1}{4}$  ( ㉗ )

⑥ 右のリンゴを分けましょう。



⑦ 次の問題を解きましょう。

①  $\frac{1}{5} + \frac{3}{5}$   
 $\frac{4}{5}$

②  $\frac{4}{7} + \frac{3}{7}$   
 $\frac{7}{7}$  (1)

③  $1 - \frac{1}{4}$   
 $\frac{3}{4}$

④  $1 + \frac{3}{5}$   
 $\frac{8}{5}$