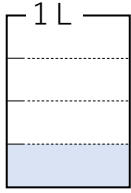
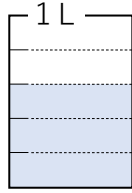


# 分数① 答え

① 下の図の水のかさを、「分数」で表しましょう。



(  $\frac{1}{4}$  )

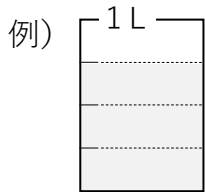


(  $\frac{3}{5}$  )

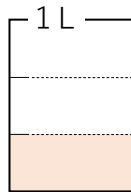


(  $\frac{5}{6}$  )

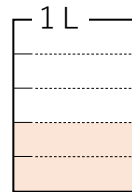
② 次の分数がしめす量を色をぬって表しましょう。



(  $\frac{3}{4}$  )



(  $\frac{1}{3}$  )



(  $\frac{2}{5}$  )



(  $\frac{4}{4}$  )

③ 次の数はいくつですか。

①  $\frac{3}{4}$  は、 $\frac{1}{4}$  を 3 こ集めた数です。

②  $\frac{9}{9}$  は、 $\frac{1}{9}$  を 9 こ集めた数です。

③  $\frac{1}{7}$  を 4 こ集めた数

$\frac{4}{7}$

④  $\frac{1}{5}$  を 5 こ集めた数

$\frac{5}{5}$  (1)

④ □にあてはまる等号(=)、不等号(<、>)を書きましょう。

①  $\frac{8}{10}$  < 0.9

②  $\frac{5}{10}$  = 0.5

③  $\frac{1}{10}$  > 0

④  $\frac{9}{10}$  < 1

⑤  $\frac{10}{10}$  = 1