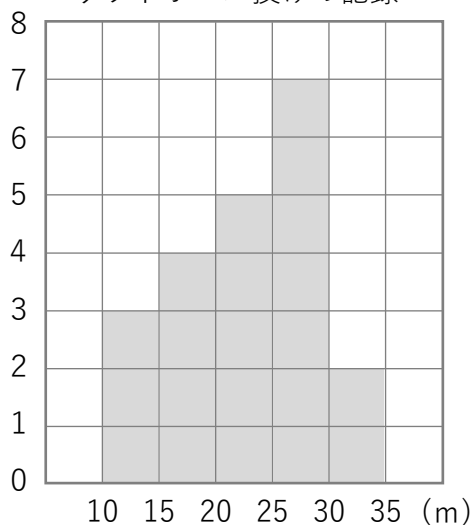


(人) ソフトボール投げの記録



① 左のヒストグラムを見て答えましょう。

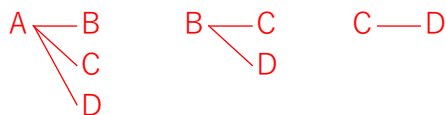
① 15m以上20m未満の階級の度数を書きましょう。  
( 4人 )

② いちばん度数が多いのは、どの階級ですか。  
( 25m 以上 30m 未満 )

③ きよりの長いほうから数えて10番めの方は、  
どの階級に入りますか。  
( 20m 以上 25m 未満 )

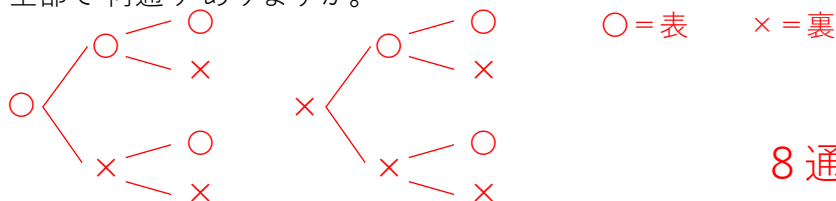
② みかん、りんご、なし、バナナの4種類のくだものの中から、  
ちがう種類の2つを選ぶとき、組み合わせは全部で何通りありますか。

A = みかん  
B = りんご  
C = なし  
D = バナナ



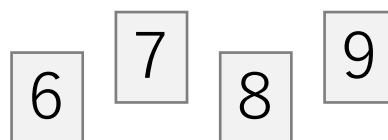
6通り

③ 1枚のコインを続けて3回投げます。このとき、表と裏の出方は、  
全部で何通りありますか。



8通り

④ 次の4枚のカードを使って、4けたの整数をつくります。



① 千の位を6にする場合にできる4けたの整数を  
全部書きましょう。

( 6789、6798、6879、6897、6978、6987 )

② 4けたの整数は全部で何通りできますか。

$6 \times 4 = 24$  ( 24通り )