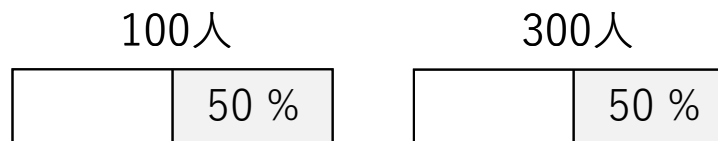


割合「棒グラフ」

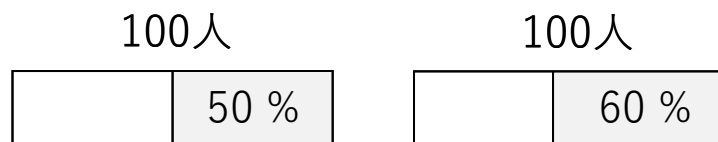
No. 2

① 次の問題を解きましょう。

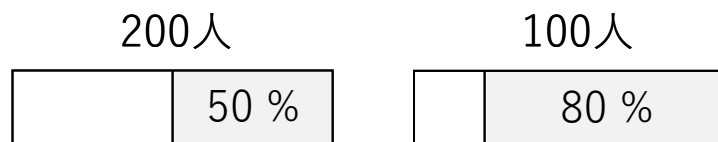
① 「100人の50%」と「300人の50%」はどちらが多いですか？



② 「100人の50%」と「100人の60%」はどちらが多いですか？



③ 「200人の50%」と「100人の80%」はどちらが多いですか？



④ 「100人の80%」と「900人の10%」はどちらが多いですか？

