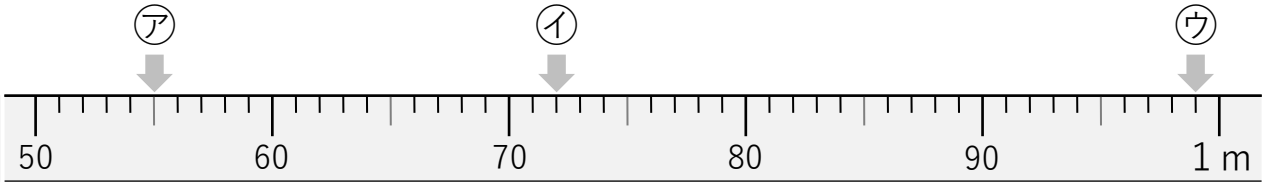
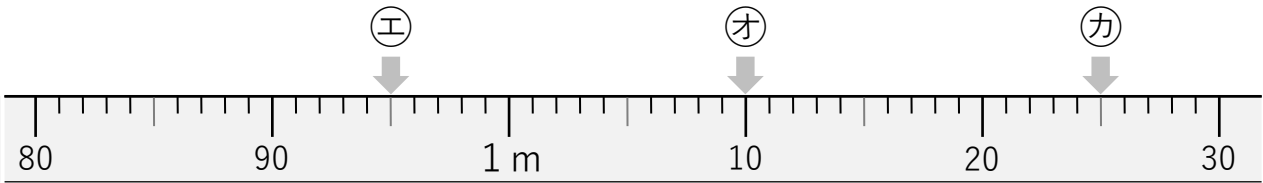


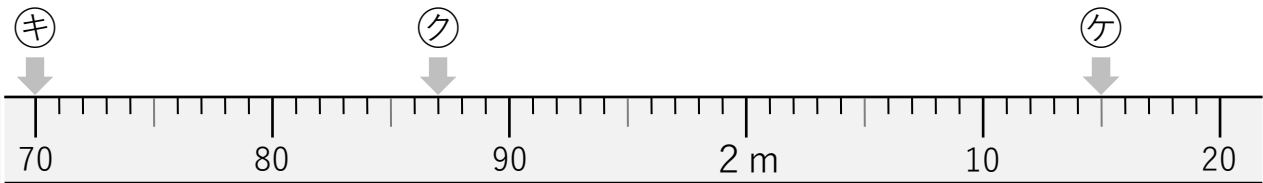
① 次のア～ケのめもりを、cmやmを使って表しましょう。



ア () イ () ウ ()

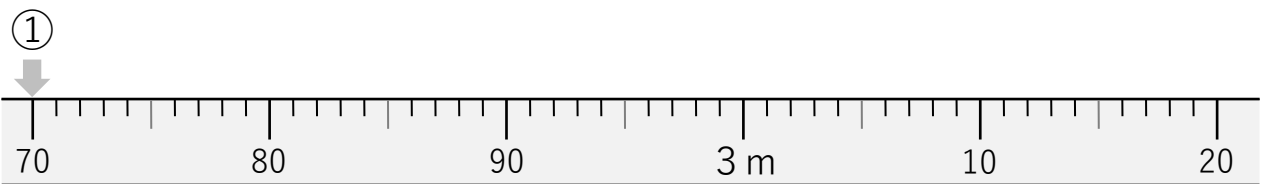


エ () オ () カ ()



キ () ク () ケ ()

② 次のまきじゃくで、①～⑤の長さを表すめもりに、「やじるし」を書きましょう。



- ① 2 m 70cm ② 2 m 93cm ③ 3 m ④ 3 m 7 cm ⑤ 3 m 12cm