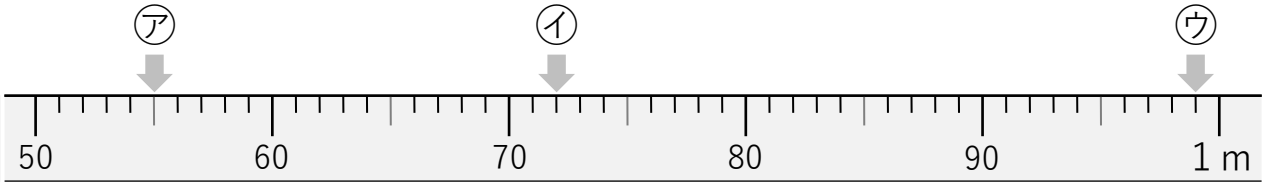
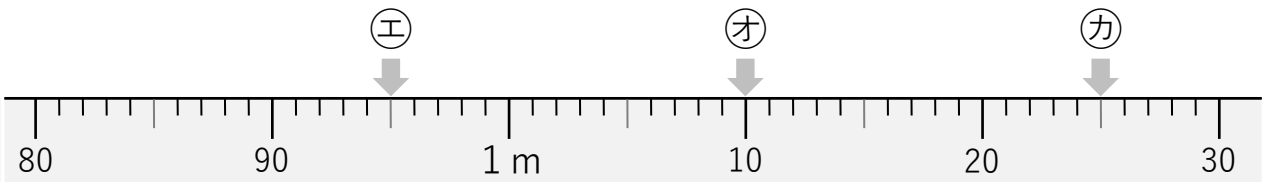


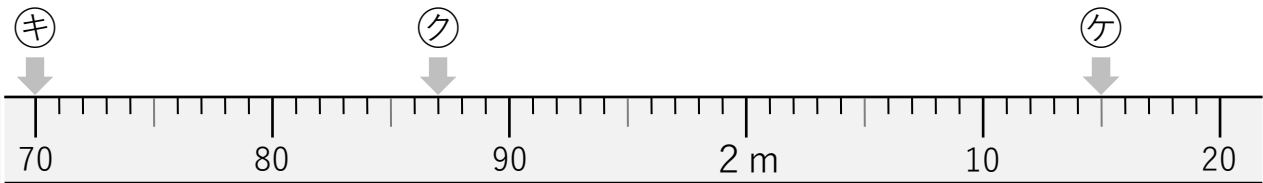
① 次のア～ケのめもりを、cm や m を使って表しましょう。



ア (55 cm) イ (72 cm) ウ (99 cm)

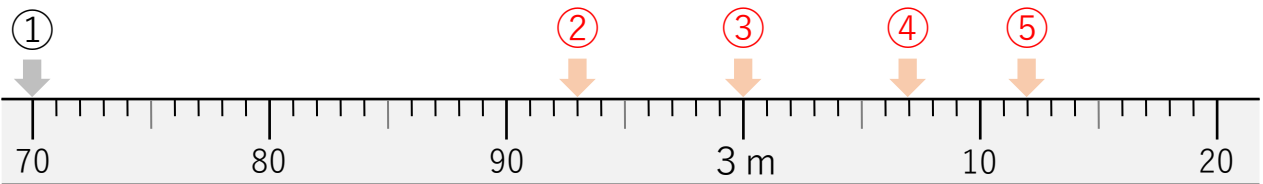


エ (95 cm) オ (1 m 10 cm) カ (1 m 25 cm)



キ (1 m 70 cm) ク (1 m 87 cm) ケ (2 m 15 cm)

② 次のまきじゃくで、①～⑤の長さを表すめもりに、「やじるし」を書きましょう。



① 2 m 70cm ② 2 m 93cm ③ 3 m ④ 3 m 7 cm ⑤ 3 m 12cm