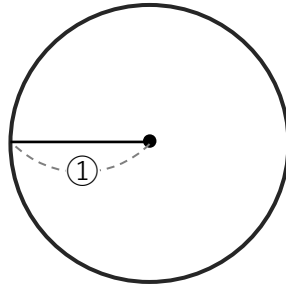
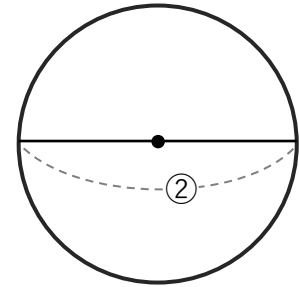


- ① ①と②にあてはまる言葉を書きましょう。

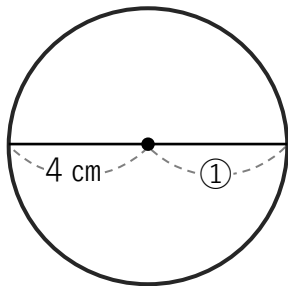


① ( 半径 )

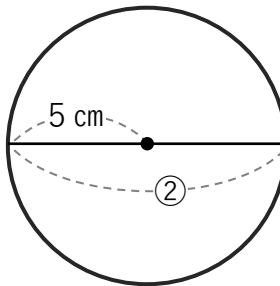


② ( 直径 )

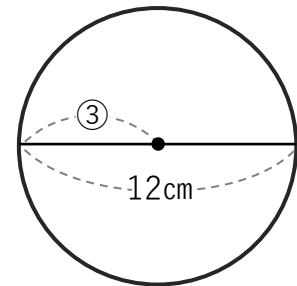
- ② ①～③にあてはまる数字を書きましょう。



① ( 4 cm )



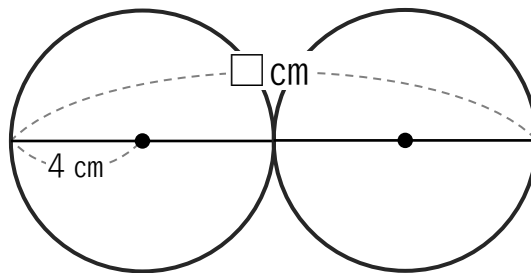
② ( 10 cm )



③ ( 6 cm )

- ③ 半径 4 cm の球が 2 つ  
ピッタリくっついている時、  
□に入る数を答えましょう。

( 16 cm )



- ④ 半径 5 cm の球が 3 つ  
ピッタリくっついている時、  
□に入る数を答えましょう。

( 30 cm )

