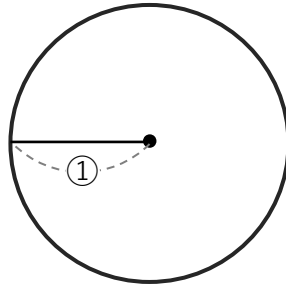
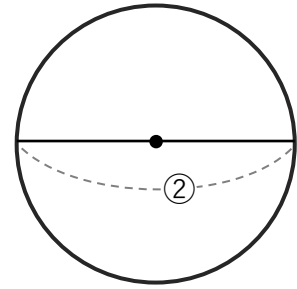


円と球

① ①と②にあてはまる言葉を書きましょう。

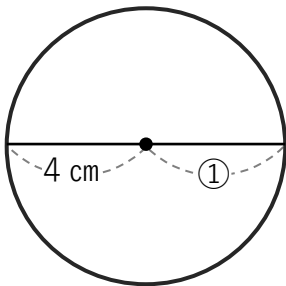


① ()

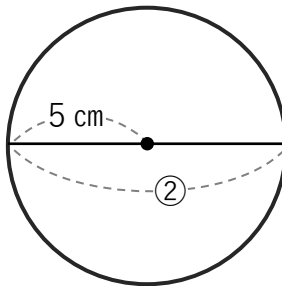


② ()

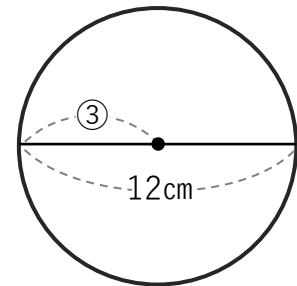
② ①～③にあてはまる数字を書きましょう。



① ()



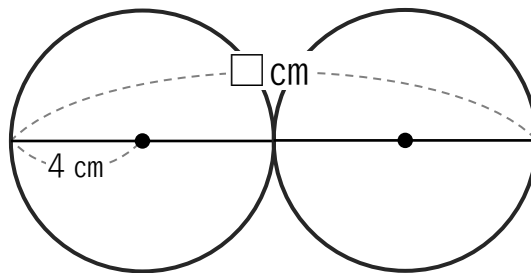
② ()



③ ()

③ 半径 4 cm の円が 2 つ
ピッタリくっついている時、
□に入る数を答えましょう。

()



④ 半径 5 cm の円が 3 つ
ピッタリくっついている時、
□に入る数を答えましょう。

()

