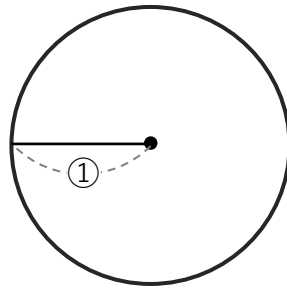
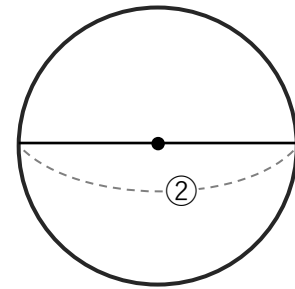


- ① ①と②にあてはまる言葉を書きましょう。

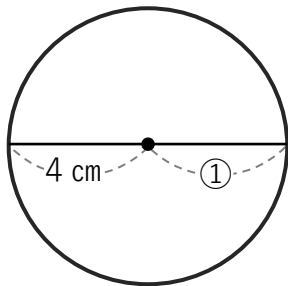


① (半径)

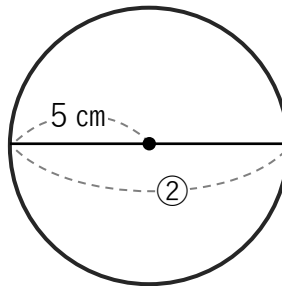


② (直径)

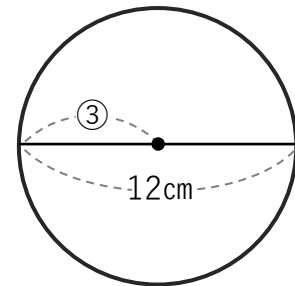
- ② ①～③にあてはまる数字を書きましょう。



① (4 cm)



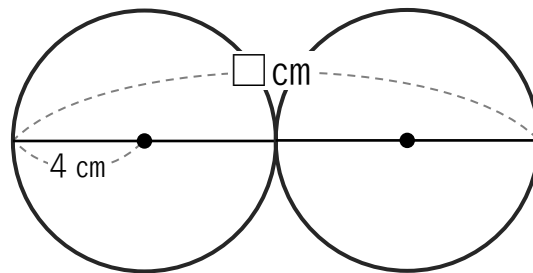
② (10 cm)



③ (6 cm)

- ③ 半径 4 cm の円が 2 つ
ピッタリくっついている時、
□に入る数を答えましょう。

(16 cm)



- ④ 半径 5 cm の円が 3 つ
ピッタリくっついている時、
□に入る数を答えましょう。

(30 cm)

