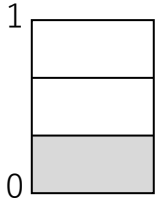
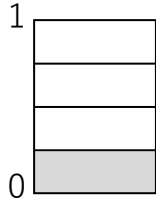


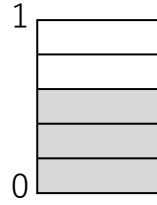
① 分数で答えましょう。




($\frac{1}{3}$)



($\frac{1}{4}$)

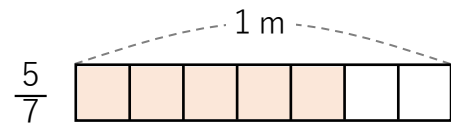
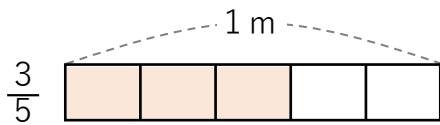
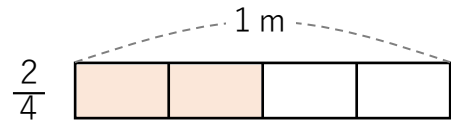
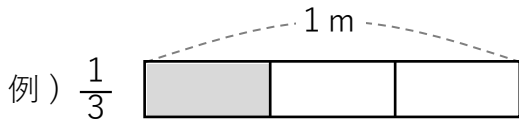


($\frac{3}{5}$)

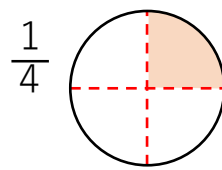
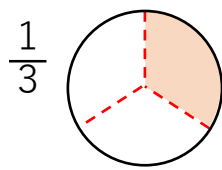
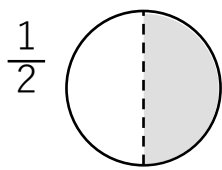


($\frac{6}{6}$)

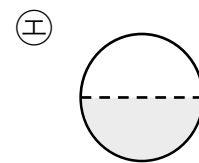
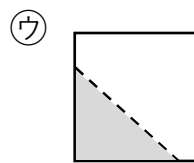
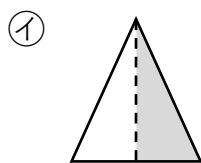
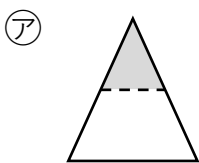
② 次の長さの分だけ色をぬりましょう。



③ 円を $\frac{1}{2}$ 、 $\frac{1}{3}$ 、 $\frac{1}{4}$ にわけて色をぬりましょう。



④ ㉗～㉝の中から「 $\frac{1}{2}$ 」を全て選びましょう。



(\textcircled{x} 、 \textcircled{y})

① 次の数を分数で表しましょう。

① 2つに分けたうちの1つ分 ($\frac{1}{2}$)

② 8つに分けたうちの3つ分 ($\frac{3}{8}$)

② 次の数はいくつですか。

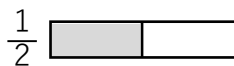
① $\frac{3}{4}$ は、 $\frac{1}{4}$ を こ集めた数。

② $\frac{9}{9}$ は、 $\frac{1}{9}$ を こ集めた数。

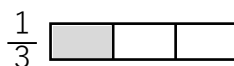
③ $\frac{1}{7}$ を 4 こ集めた数は $\frac{4}{7}$ です。

④ $\frac{1}{5}$ を 6 こ集めた数は $\frac{6}{5}$ です。

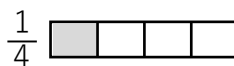
⑤ 10個の $\frac{1}{2}$ は 個です。



⑥ 9枚の $\frac{1}{3}$ は 枚です。



⑦ 8cmの $\frac{1}{4}$ は cmです。



③ $\frac{1}{3}$ と $\frac{1}{6}$ と $\frac{1}{9}$ では、どれが一番大きいですか？ ($\frac{1}{3}$)