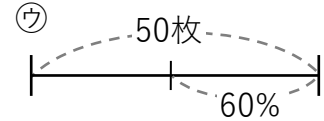

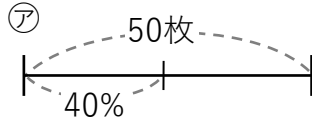
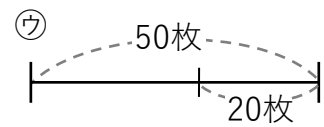
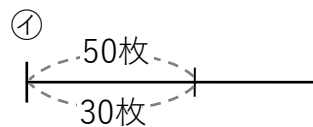
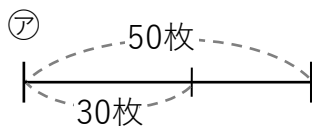


① 次の文章が表している図を①～③から選びましょう。

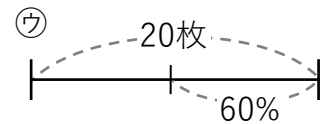

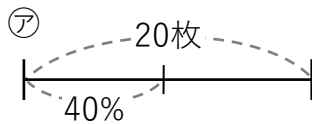
① 50枚の40%はいくらですか？ []



② 30枚は50枚の何%ですか？ []



③ 40%が20枚のとき全部でいくらですか？ []



② 次の問題を解きましょう。

① 2000円の30%はいくらですか？

② 1200円は2000円の何%ですか？

③ 20%が300円の時全部でいくらですか？