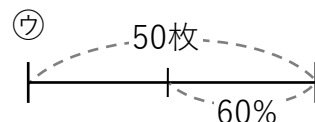

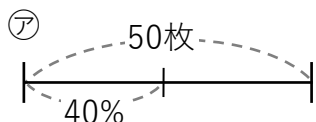
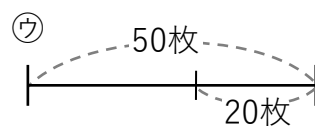
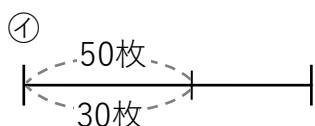
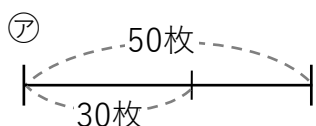


① 次の文章が表している図を①～③から選びましょう。

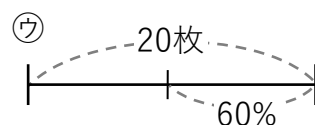
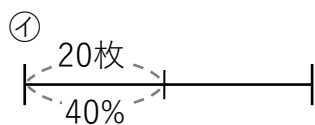
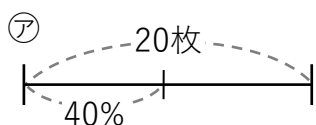
① 50枚の40%はいくらですか？ [**ア**]



② 30枚は50枚の何%ですか？ [**ア**]



③ 40%が20枚のとき全部でいくらですか？ [**イ**]



② 次の問題を解きましょう。

① 2000円の30%はいくらですか？ (別解) 2000円 = 100%
 200円 = 10%
 2000 × 0.3 = 600 600円 600円 = 30%

② 1200円は2000円の何%ですか？ (別解) 2000円 = 100%
 200円 = 10%
 1200 ÷ 2000 = 0.6
 0.6 × 100 = 60% 60% 1200円 = 60%

③ 20%が300円の時全部でいくらですか？ (別解) 300円 = 20%
 150円 = 10%
 300 ÷ 0.2 = 1500 1500円 1500円 = 100%