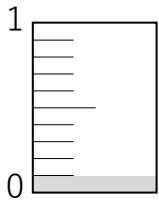
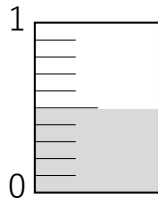


小数 ①

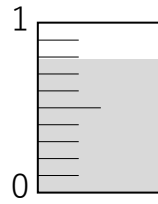
① 次の問題を解きましょう。



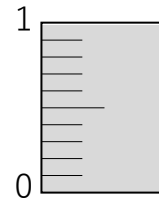
(0.1)



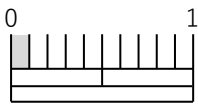
()



()



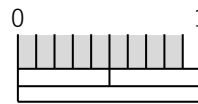
()



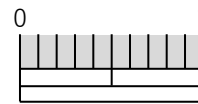
()



()

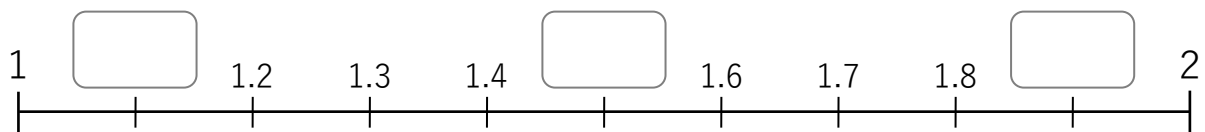
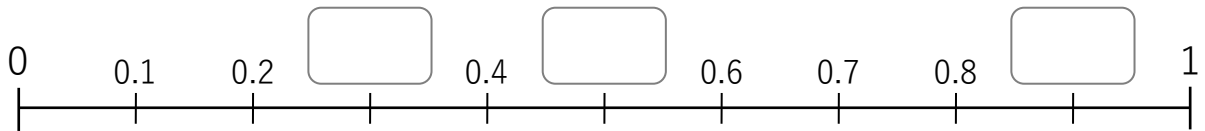


()



()

② □にあてはまる数を書きましょう。



③ 「0.5」「1.2」「3.5」「4.9」「9.9」「11.5」に矢印(↑)を書きましょう。

